

CHAPITRE 13 Équations de droites

1. Représenter graphiquement une fonction affine

Rappels

- Dans un repère, la représentation graphique d'une fonction affine f est une droite.
- Pour la tracer, il suffit de choisir deux nombres réels distincts x_1 et x_2 , de calculer leurs images par f et de tracer la droite passant par les points de coordonnées $(x_1 ; f(x_1))$ et $(x_2 ; f(x_2))$.

1. Dans un repère, représenter graphiquement les fonctions affines définies par :

- $f(x) = x + 1$
- $g(x) = 3x - 1$
- $h(x) = 2x + 2$
- $j(x) = -x - 2$
- $k(x) = -2x + 3$
- $p(x) = -4x - 1$

2. Dans un repère, représenter graphiquement les fonctions affines définies par :

- $f(x) = \frac{1}{2}x - 1$
- $g(x) = x + \frac{5}{2}$
- $h(x) = -\frac{1}{4}x + \frac{3}{4}$
- $p(x) = \frac{2}{3}x - \frac{5}{3}$

2. Déterminer l'expression d'une fonction affine

Rappels

- Une fonction affine est définie par une expression de la forme $f(x) = mx + p$ où m et p sont deux nombres réels.
- En connaissant les images de deux nombres, on peut résoudre un système de deux équations pour trouver les valeurs de m et p .

3. a. Déterminer l'expression de la fonction affine f telle que $f(0) = 5$ et $f(2) = 9$.

b. Déterminer l'expression de la fonction affine h telle que $h(1) = -2$ et $h(3) = 0$.

4. a. Déterminer l'expression de la fonction affine f telle que $f(1) = 2$ et $f(2) = 5$.

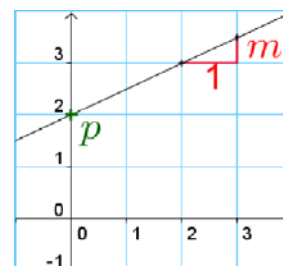
b. Déterminer l'expression de la fonction affine h telle que $h(-2) = 8$ et $h(4) = -10$.

3. Lire graphiquement les coefficients d'une fonction affine

Rappels

Pour la droite représentative, dans un repère, d'une fonction affine f définie par $f(x) = mx + p$:

- le nombre p est son **ordonnée à l'origine** ; la droite coupe l'axe des ordonnées au point de coordonnées $(0 ; p)$;
- le nombre m est son **coefficient directeur** ; on peut le lire comme sur la figure ci-contre.

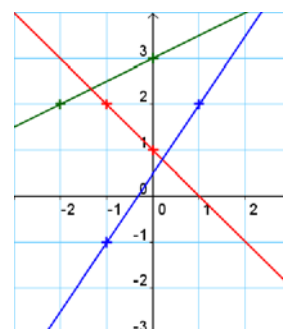


5. Pour chacune des droites verte et rouge du repère ci-contre :

- lire graphiquement son ordonnée à l'origine et son coefficient directeur ;
- donner l'expression de la fonction affine représentée.

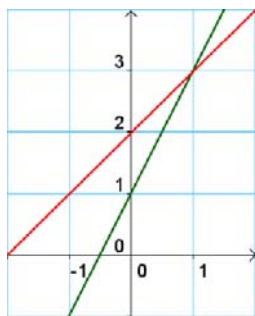
6. Pour la droite bleue du repère ci-contre :

- lire graphiquement son coefficient directeur ;
- déterminer son ordonnée à l'origine par le calcul.



4. Interpréter graphiquement la solution d'un système

7. On a représenté ci-dessous dans un repère, les droites représentatives des fonctions affines définies par $f(x) = 2x + 1$ et $g(x) = x + 2$. Lire graphiquement la solution du système :



$$\begin{cases} y = 2x + 1 \\ y = x + 2 \end{cases}$$

8. f et g sont les fonctions affines définies par $f(x) = x + 1$ et $g(x) = 2x - 3$.

a. Représenter graphiquement les fonctions f et g dans un repère.

b. Lire graphiquement la solution du système : $\begin{cases} y = x + 1 \\ y = 2x - 3 \end{cases}$.

9. f et g sont les fonctions affines définies par $f(x) = -2x + 3$ et $g(x) = 3x - 2$.

a. Représenter graphiquement les fonctions f et g dans un repère.

b. Lire graphiquement la solution du système : $\begin{cases} y = -2x + 3 \\ y = 3x - 2 \end{cases}$.

5. Résoudre algébriquement un système d'équations du premier degré

Rappel

Pour résoudre un système de deux équations linéaires à deux inconnues, on se ramène à la résolution d'une équation à une inconnue en procédant par **substitution** ou par **combinaison**.

10. (S) est le système $\begin{cases} 2x + y = 3 \\ x - y = -1 \end{cases}$

a. Exprimer x en fonction de y dans la deuxième équation.

b. Remplacer x par cette expression dans la première équation.

c. Terminer la résolution du système (S).

11. Résoudre chaque système.

a. $\begin{cases} x + y = 5 \\ 2x - y = 4 \end{cases}$ b. $\begin{cases} -2x + y = 3 \\ x + 3y = -1 \end{cases}$

12. (S) est le système $\begin{cases} 3x - 2y = 5 \\ 3x + 2y = -4 \end{cases}$.

a. Additionner membre à membre les deux équations et en déduire la valeur de x .

b. Reporter cette valeur de x dans l'une des deux équations du système (S) et en déduire la valeur de y . En déduire la solution de (S).

13. Résoudre chaque système.

a. $\begin{cases} 2y + 4x = 6 \\ 3x + 2y = 0 \end{cases}$ b. $\begin{cases} -2y + 3x = 2 \\ 5x - 2y = 0 \end{cases}$

6. Calculer les coordonnées du milieu d'un segment

Rappel

Dans un repère, A et B sont les points de coordonnées respectives $(x_A; y_A)$ et $(x_B; y_B)$.

Les coordonnées du milieu du segment [AB] sont $x_1 = \frac{x_A + x_B}{2}$ et $y_1 = \frac{y_A + y_B}{2}$.

Pour les exercices 14 à 16, le plan est muni d'un repère. Déterminer les coordonnées du milieu I du segment [AB].

14. A (2 ; 3) et B (-2 ; 5).

15. A (-1 ; 7) et B (-4 ; -2).

16. A (5 ; 3) et B $\left(-\frac{1}{2}; \frac{2}{3}\right)$

17. A (5 ; 2), B (-1 ; 1), C (2 ; -1) et D (-4 ; -2) sont quatre points dans un repère.

a. Tracer une figure.

b. Calculer les coordonnées du milieu :

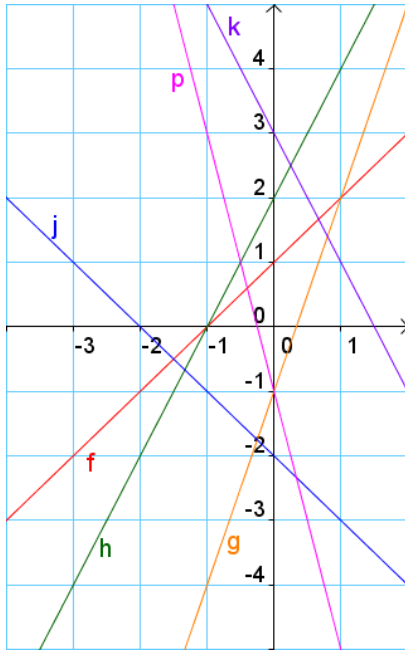
• du segment [AD] ;

• du segment [BC].

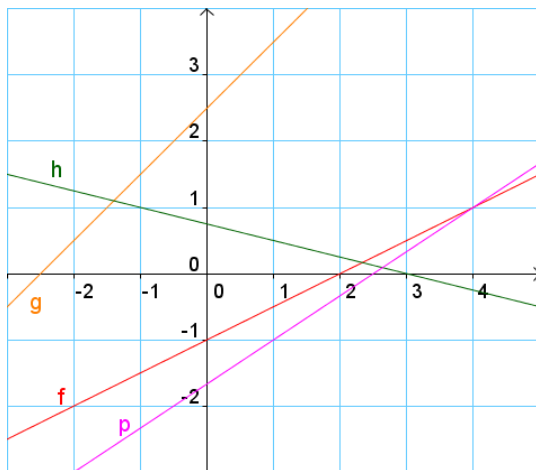
c. Quelle est la nature du quadrilatère ABDC ?

Réponses aux exercices complémentaires

1.



2.



3. a. $p = 5$ et $2m + p = 9$ donc $m = 2$.

$$f(x) = 2x + 5$$

b. $m + p = -2$ et $3m + p = 0$.

$$p = -2 - m \text{ et } 3m - 2 - m = 0.$$

Donc $m = 1$ et $p = -3$.

$$h(x) = x - 3$$

4. a. $m + p = 2$ et $2m + p = 5$.

$$p = 2 - m \text{ et } 2m + 2 - m = 5.$$

Donc $m = 3$ et $p = -1$.

$$f(x) = 3x - 1$$

b. $-2m + p = 8$ et $4m + p = -10$.

$$p = 8 + 2m \text{ et } 4m + 8 + 2m = -10.$$

Donc $m = -3$ et $p = 2$.

$$h(x) = -3x + 2$$

5. Droite verte : $m = \frac{1}{2}$ et $p = 3$.

Droite rouge : $m = -1$ et $p = 1$.

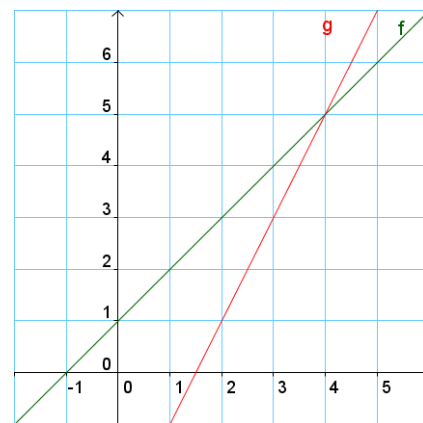
6. a. $m = \frac{3}{2}$

b. La droite bleue représente une fonction affine f telle que $f(x) = \frac{3}{2}x + p$.

Or $f(1) = 2$, donc $p = \frac{1}{2}$.

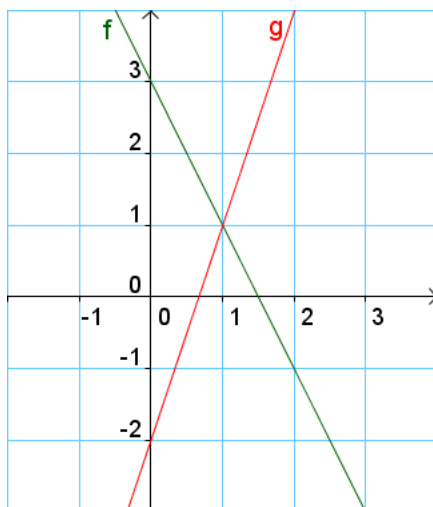
7. La solution du système est le couple $(1 ; 3)$.

8. a.



b. La solution du système est le couple $(4 ; 5)$.

9. a.



b. La solution du système est le couple $(1 ; 1)$.

10. a. $x = -1 + y$

b. $2(-1 + y) + y = 3$

c. Donc $y = \frac{5}{3}$ et $x = \frac{2}{3}$.

La solution du système est le couple $\left(\frac{2}{3}; \frac{5}{3}\right)$.

11. a. La solution est le couple $(3 ; 2)$.

b. La solution du système est le couple $\left(-\frac{10}{7}; \frac{1}{7}\right)$.

12. a. $6x = 1$ donc $x = \frac{1}{6}$.

b. $3 \times \frac{1}{6} + 2y = -4$ donc $y = -\frac{9}{4}$.

La solution du système est le couple $\left(\frac{1}{6}; -\frac{9}{4}\right)$

13. a. La solution du système est le couple $(6 ; -9)$.

b. La solution du système est le couple $(-6 ; -10)$.

14. $\frac{-2+2}{2} = 0$ et $\frac{3+5}{2} = 4$. Donc $I(0 ; 4)$.

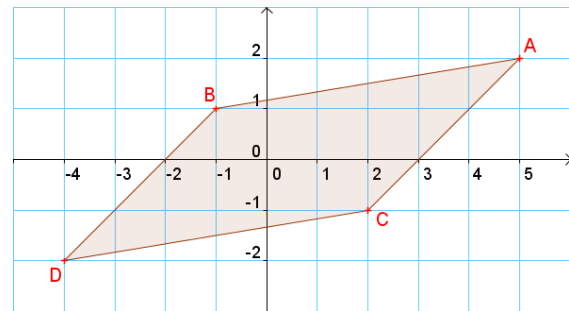
15. $\frac{-1-4}{2} = -\frac{5}{2}$ et $\frac{7-2}{2} = \frac{5}{2}$.

Donc $I\left(-\frac{5}{2}; \frac{5}{2}\right)$.

16. $\frac{5-\frac{1}{2}}{2} = \frac{9}{4}$ et $\frac{3-\frac{2}{3}}{2} = \frac{11}{6}$.

Donc $I\left(\frac{9}{4}; \frac{11}{6}\right)$.

17. a.



b. • $\frac{5-4}{2} = \frac{1}{2}$ et $\frac{2-2}{2} = 0$. Donc le milieu de $[AD]$ a pour coordonnées $\left(\frac{1}{2}; 0\right)$.

• $\frac{-1+2}{2} = \frac{1}{2}$ et $\frac{1-1}{2} = 0$. Donc le milieu de $[BC]$ a pour coordonnées $\left(\frac{1}{2}; 0\right)$.

c. Les diagonales du quadrilatère ABDC se coupent en leur milieu, donc ABDC est un parallélogramme.